

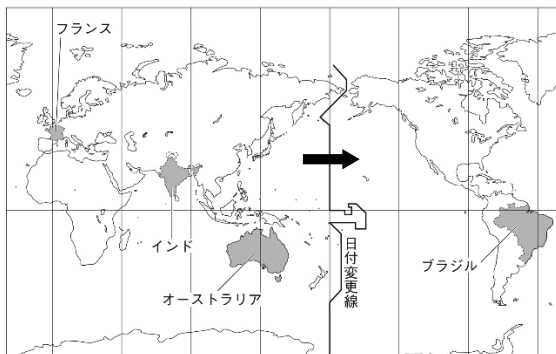
基本問題

- ① 国や地域の時刻の基準となる子午線を何というか。
- ② 兵庫県明石市を通る日本の標準時を定めている子午線は何度か、書きなさい。
- ③ 経度 15 度ごとに何時間の時差がありますか。
- ④ イギリスと日本との間の時差は何時間あるか、書きなさい。
- ⑤ 太平洋上に、ほぼ 180 度の経線に沿って設けられている線を何というか。
- ⑥ 領土・領海・領空からなる国家の主権のおよぶ区域を何というか。
- ⑦ 沿岸の国が、その範囲内において、鉱産資源の調査や開発などができる水域を何というか。

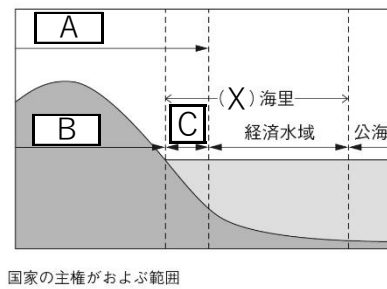
①	標準時子午線	②	東 経 135 度	③	1 時間	④	9 時間
⑤	日付変更線	⑥	領域	⑦	排他的経済水域		

発展問題

地図 1

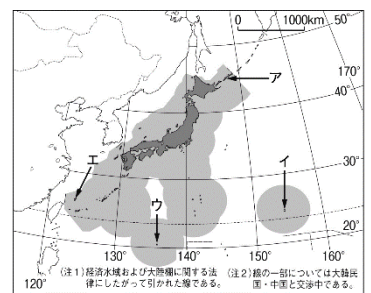


資料 1



国家の主権がおよぶ範囲

資料 2



- ① 地図 1 中の日付変更線は、島や陸地を避けて海の上を通るように設けられている。その理由を書きなさい。
- ② 地図 1 中のフランス、インド、オーストラリア、ブラジルの 4 か国で、2024 年 1 月 1 日を迎える順番はどのようになるか。その順番を国名で書きなさい。
- ③ 日本とドイツの間の時差は 7 時間である。日本が 8 月 8 日午後 5 時のとき、ドイツは何月何日の何時ですか。
- ④ 地図 1 中の日付変更線を矢印 (やじるし) 方向に越えたとき、時計の針を 1 日どうしますか。進めますか、それとも、遅らせますか。
- ⑤ 日本列島の面積はおよそ何万 km² か、次のア～ウから 1 つ選び、記号を書きなさい。
ア：およそ 18 万 km² イ：およそ 38 万 km² ウ：およそ 58 万 km²
- ⑥ 資料 1 中 X に入る数字を書きなさい。
- ⑦ 資料 1 中 A～C に入る語句を書きなさい。
- ⑧ 資料 2 中のア～エの島の名前をそれぞれ書きなさい。

①	(例) 同じ国や島で日付の違いが生じないようにするため。						
②	オーストラリア	→	インド	→	フランス	→	ブラジル
③	8 月 8 日 午前 10 時	④	遅らせる	⑤	イ	⑥	200
⑦	A 領空	B	領土	C	領海		
⑧	ア 択捉 島	イ	南鳥 島	ウ	沖ノ鳥 島	エ	与那国 島